




WOCHENPLAN:		Name:	Klasse:		
Wochentag	Fach: Mathematik // Aufgaben: Zahlen	<input type="checkbox"/> gemacht			
Montag	Thema: Zahlenraum 0 bis 30/Einer-E und Zehner-Z				
	Arbeitsblatt: Zahlen schreiben und sprechen				
	Online-Übung: Zahlen schreiben und sprechen. QR-Code scannen.				
Dienstag	Thema: Zahlenraum 30 bis 50/Zehner-Z SCAN ME				
	Arbeitsblatt: Zahlen schreiben und sprechen				
	Online-Übung: Zahlen schreiben und sprechen. QR-Code scannen.				
Mittwoch	Thema: Zahlenraum 50 bis 70/Zehner-Z SCAN ME				
	Arbeitsblatt: Zahlen schreiben und sprechen				
	Online-Übung: Zahlen schreiben und sprechen. QR-Code scannen.				
Donnerstag	Thema: Zahlenraum 70 bis 90 /Zehner-Z				
	Arbeitsblatt: Zahlen schreiben und sprechen				
	Online-Übung: Zahlen schreiben und sprechen. QR-Code scannen.				
Freitag	Thema: Zahlenraum 90 bis 100/ Hunderter-H				
	Arbeitsblatt: Zahlen schreiben und sprechen				
	Online-Übung: Zahlen schreiben und sprechen. QR-Code scannen.				

WOCHENPLAN:	Name:	Klasse:
Thema: Zahlenraum 0 bis 30/ Einer - E und Zehner - Z		<input checked="" type="checkbox"/> gemacht   

Zahl	lesen	Zahl	lesen	Zahl	lesen
0	null	10	zehn	20	zwanzig
1	eins	11	elf	21	einundzwanzig
2	zwei	12	zwölf	22	zweiundzwanzig
3	drei	13	dreizehn	23	dreundzwanzig
4	vier	14	vierzehn	24	vierundzwanzig
5	fünf	15	fünfzehn	25	fünfundzwanzig
6	sechs	16	sechzehn	26	sechszwanzig
7	sieben	17	siebzehn	27	siebenundzwanzig
8	acht	18	achtzehn	28	achtundzwanzig
9	neun	19	neunzehn	29	neunundzwanzig
10	zehn	20	zwanzig	30	dreißig

Die Zahl - 0, 1, 2, 3, 4...

Die Null - Die Eins - die Zwei
null - eins - zwei - drei

So liest du die Zahlen			
Zahl	Zehner (Z)	Einer (E)	sprechen
13	10	3	Du sprichst erst die Einer dann die Zehner.
drei	-	zehn	

1. **Schreibe** die Zahlen.  **Lies** die Zahlen laut. 

Zahl	schreiben	Zahl	schreiben
0	null		neunundzwanzig
	zwei	23	
	vier		einundzwanzig
5		27	
	sieben	15	
8			fünfzehn
6			zwanzig
	eins	19	
9			siebzehn



Schreiben



Lesen



Kreise ein



Anschaun



2. **Kreise ein.** **Schreibe** die Zahlen. 

zwanzig fünfzehnviersechzehnneunundzwanzigsechsnulsiebenachtzehn

achtundzwanzigdreizehnelfzwölfdreißigfünfundzwanzigsiebzehn

20 -

3. **Verbinde** die Zahlen.

zwanzig	17	acht	1
drei	29	elf	27
einundzwanzig	20	zwölf	8
siebzehn	3	eins	11
neunundzwanzig	21	siebenundzwanzig	12



4. Telefonnummern: **Schreibe** vier Nummern. **Lies** die Nummern laut.

0179 33 56 73 87- null eins sieben neun

5. **Nachbarzahlen**: Vorgänger und Nachfolger. **Schau** die Tabelle an.

Vorgänger: Die Eins kommt **vor** der Zwei. Die Eins ist **links**.

1 ist **der Vorgänger** von 2. Die Zahlen 1 und 2 sind **Nachbarn**.

Nachfolger: Die Drei kommt **nach** der Zwei.

Die Drei ist **rechts**. 3 ist **der Nachfolger** von 2.

Vorgänger	Zahl	Nachfolger
1 eins	2 zwei	3 drei
5 fünf	6 sechs	7 sieben

Was sind die Nachbarzahlen von 9, 11, 13, 15, 17, 22, 29? **Schreibe** die Zahlen.

Vorgänger	Zahl	Nachfolger	Vorgänger	Zahl	Nachfolger
eins	2	drei		15	
	9			17	
	11			22	
	13			29	



Online-Übung. LINK: <https://learningapps.org/11281617>



WOCHENPLAN:	Name:	Klasse:
Thema: Zahlenraum 30 bis 50 / Zehner - Z		<input checked="" type="checkbox"/> gemacht <input type="checkbox"/> 😊 <input type="checkbox"/> 😐 <input type="checkbox"/> ☹️

Zahl	lesen	Zahl	lesen	Zahl	lesen
30	drei <u>ß</u> ig	37	siebenund <u>dre</u> ißig	44	vierund <u>vier</u> zig
31	einund <u>dre</u> ißig	38	achtund <u>dre</u> ißig	45	fünfund <u>vier</u> zig
32	zweiund <u>dre</u> ißig	39	neunund <u>dre</u> ißig	46	sech <u>sun</u> dvierzig
33	dreiund <u>dre</u> ißig	40	<u>vier</u> zig	47	siebenund <u>vier</u> zig
34	vierund <u>dre</u> ißig	41	einund <u>vier</u> zig	48	achtund <u>vier</u> zig
35	fünfund <u>dre</u> ißig	42	zweiund <u>vier</u> zig	49	neunund <u>vier</u> zig
36	sech <u>sun</u> dreißig	43	dreiund <u>vier</u> zig	50	<u>fünf</u> zig

So liest du die Zahlen
 du sprichst erst
 die Einer, dann die
 Zehner.

Zahl Zehner (Z) Einer (E)
 43 3
 drei und vierzig

1. **Schreibe** die Zahlen . **Lies** die Zahlen laut. 


Zahl	schreiben	Zahl	schreiben
	vierzig		neunundvierzig
	zweiundvierzig	45	
35			einunddreißig
29		47	
	siebenunddreißig	45	
34			vierundvierzig
38		30	
	einundzwanzig	19	
39			siebzehn


Schreiben

Lesen

Kreise ein


2. **Kreise ein. Schreibe** die Zahlen. 

 **zwanzig** fünfundvierzig vierunddreißig achtunddreißig siebenundvierzig vierzig
 vierundvierzig achtundvierzig dreiunddreißig dreißig fünfundvierzig neunundvierzig

20 -

3. **Verbinde** die Zahlen.

zwanzig	41	achtundvierzig	48
dreiig	37	neunundvierzig	45
einundvierzig	20	dreiunddreiig	49
siebenunddreiig	30	vierzig	33
neununddreiig	39	fnfundvierzig	40



4. **Welche Zahl ist das ? Schau** die Tabelle an. 

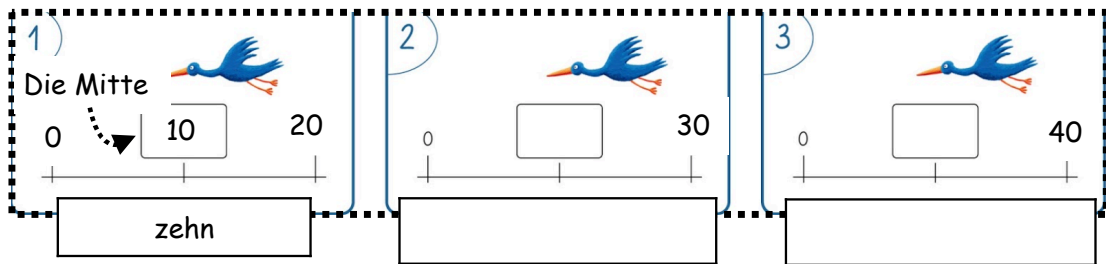
Schreibe die Zahlen in die Tabelle.



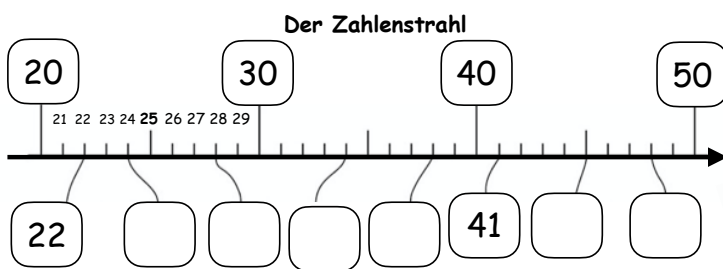
33 - 34 - 36 - 37 - 43 - 49 - **45** - 46 - 41 - 44 - 30 - 39 - 38 - 32

Zehner (Z)	Einer (E)	Zahl	schreiben	Zahl	
30	3	33	dreiunddreiig	45	fnfundvierzig
30	4				
					dreiig
					neununddreiig
					achtunddreiig

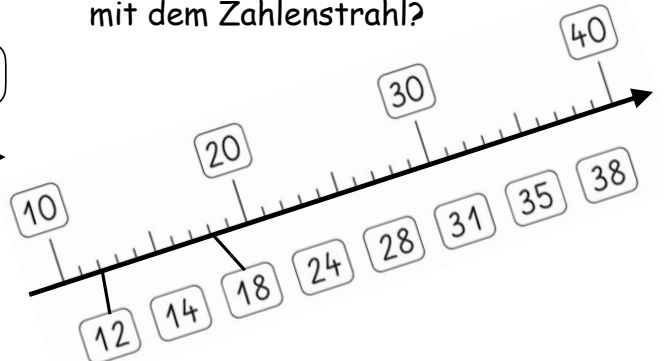
5. **Welche Zahl ist in der Mitte? Schreibe** die Zahl.



6. **Welche Zahlen sind das?**



7. **Verbinde** die Zahlen mit dem Zahlenstrahl?



LINK: <https://learningapps.org/11285953>

SCAN ME

WOCHENPLAN:	Name:	Klasse:		
Thema: Zahlenraum 50 bis 70/ Zehner - Z		<input checked="" type="checkbox"/> gemacht	<input type="checkbox"/>	<input type="checkbox"/>

1. Welche Zahlen fehlen? Schreibe die Zahlen in die Tabelle.



Zahl	lesen	Zahl	lesen	Zahl	lesen
50	fünfzig	57			vierundsechzig
51	einundfünfzig			65	
52	zweiundfünfzig		neunundfünfzig		sechsendsechzig
53	dreiundfünfzig	60	sechzig		
	vierundfünfzig	61	einundsechzig		
		62		69	
56		63		70	siebzig

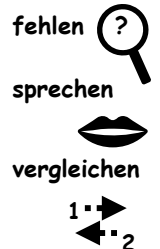
Die Zahlen	
Zehner	lesen
10	zehn
20	zwanzig
30	dreißig
40	vierzig
50	fünfzig
60	sechzig
70	siebzig

2. Kreise ein. Schreibe die Zahlen.

zwanzig fünfundfünfzig vierundsechzig vierundfünfzig achtundfünfzig sechzig
siebenundsechzig sechsendsechzig neunundfünfzig neunundsechzig einundfünfzig
20 -

3. Verbinde die Zahlen.

zwanzig	51	achtundfünfzig	58
dreißig	57	neunundfünfzig	65
einundfünfzig	20	dreiundsechzig	59
siebenundfünfzig	30	sechzig	63
neunundsechzig	69	fünfundsechzig	60



4. Vergleiche die Zahlen und sprich.



vergleichen	Zahl	Zeichen	Zahl	schreiben
größer >	41	>	40	41 ist größer als 40
kleiner <	53	<	56	53 ist kleiner als 56
gleich =	41	=	41	41 ist gleich 41

Zahl	Zeichen	Zahl	schreiben und sprechen
59		61	
54		45	
49		49	



LINK: <https://learningapps.org/11306519>



WOCHENPLAN:	Name:	Klasse:		
Thema: Zahlenraum 70 bis 90 / Zehner - Z		<input checked="" type="checkbox"/> gemacht	<input type="checkbox"/>	<input type="checkbox"/>

1. Welche Zahlen **fehlen**? **Schreibe** die Zahlen in dein Heft.



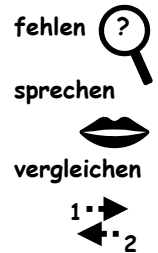
Die Zahlen			
Zahl	lesen	Zahl	lesen
70	siebz ig	80	acht zig
71	ein und siebz ig	81	ein und acht zig
72	zwei und siebz ig	???	???
73	drei und siebz ig	89	neun und acht zig
74		90	neun zig
Schreibe die Zahlen 70 bis 79 in dein Heft.		Schreibe die Zahlen 80 bis 90 in dein Heft.	

2. **Kreis ein** . **Schreibe** die Zahlen.

fünfundsiebzigvierundachtzigvierundsiebzigachtundsiebzigneunundsiebzig
 siebenundachtzigsechsundsiebzigachtzigneunundachtzigneunundfünfzigneunzig

3. **Verbinde** die Zahlen.

neunzig	71	sechs und acht zig	68
ein und siebz ig	87	acht zig	75
neun und acht zig	90	acht und sechs zig	76
sieben und acht zig	79	f ün f und siebz ig	86
neun und siebz ig	89	sechs und siebz ig	80



4. **Was sind** die Nachbarzahlen von 58, 72, 79, 87, 89? **Schreibe** die Zahlen.

Vorgänger	Zahl	Nachfolger	Vorgänger	Zahl	Nachfolger	Vorgänger	Zahl	Nachfolger
1 eins	2 zwei	3 drei	71	72	73			
5 fünf	6 sechs	7 sieben						



LINK: <https://learningapps.org/11308675>

SCAN ME

WOCHENPLAN:	Name:	Klasse:
Thema: Zahlenraum 90 bis 100 / Hunderter - H		<input checked="" type="checkbox"/> gemacht

1. Welche Zahlen **fehlen?** **Schreibe** die Zahlen in dein Heft.

Die Zahlen			
Zahl	lesen	Zahl	lesen
90		100	ehundert
91		101	hundertehns
92		102	hundertzwei
...			
99		110	hundertzehn
Schreibe die Zahlen 90 bis 99 in dein Heft.		Schreibe die Zahlen 100 bis 120 in dein Heft.	

Zahl	Hunderter
100	ehundert oder hundert
200	zweihundert
300	dreihundert
900	neunhundert
1000	eintausend oder tausend
1100	tauseneinhundert
1110	tauseneinhundertzehn
2000	zweitausend

2. **Kreis ein.** **Schreibe** die Zahlen.

hundertf5nfhundredsiebzighundertvierundachtzighundertvierundsiebzighundertachtundsiebzigeintausendzweihundertneunundsiebzighundert

3. **Stellenwerttafel:** **Schreibe** die Zahlen in die Stellenwerttafel.

Die Stellenwerttafel			
Zahl	Hunderter	Zehner	Einer
	H x 100	Z x 10	E x 1
10	-	1 x 10 = 10	0 x 1 = 0
21	-	2	1
90	-	9	0
100	1 x 100	0	0
101	1	0	1
151	1	5	1
200	2	0	0

Die Stellenwerttafel			
Zahl	Hunderter	Zehner	Einer
	H x 100	Z x 10	E x 1
20			
31			
55			
70			
200			
201			
351			
611			



LINK: <https://learningapps.org/11308675>

SCAN ME

Quellen und Literatur

(Laut Impressum für die Eltern und Lehrkräfte kostenlos)

1. Plattform "learningsapps.org". Vorhandene Übungen können überarbeitet oder neue Übungen erstellt werden. URL: <https://learningapps.org> (Letzter Zugriff am 26.04.2020). Für Lerngruppen können passwortgeschützte Übungen erstellt werden. Anmeldung erforderlich.

2. Reinsch, Gisela, Blogspot „Lernstübchen“. Vorhandene Übungen müssen unverändert eingesetzt werden. URL: <https://lernstuebchen-grundschule.blogspot.com> (Letzter Zugriff am 26.04.2020).

Autor: Bahattin Aslan, Berater

Berater für Sprachbildung und Interkulturelle Bildung

Sprachbildungszentrum Delmenhorst (April 2020)

bahattin.aslan@nlschb.de